

Промежуточная аттестация

Предмет: дополнительный учебный предмет «Население мира и мировое хозяйство», 11 класс

Условия проведения процедуры промежуточной аттестации:

Работа проводится в классе, задания выполняются на заранее распечатанных бланках

Время выполнения:

На выполнение всей работы отводится 45 минут.

Цель работы – оценить овладения предметных результатов и познавательных УУД учащихся 11 класса по итогам усвоения программы по дополнительному учебному предмету «Население мира и мировое хозяйство»

Структура и содержание работы:

Работа проводится в форме тестирования, состоит из 3х частей:

1 часть – тесты,

2 часть – установление соответствия,

3 часть – развернутый ответ.

Задания А1-А11 с выбором правильного ответа;

Задания В1,2–установить соответствие;

Задание С1- определить страну;

Задания С2,3 – дать развернутый ответ.

№ задания	Контролируемые элементы содержания (предметные результаты)	Связь с УУД (познавательные результаты)	Тип	Балл
А1,	Выделять и объяснять существенные признаки географических объектов и явлений	Строить рассуждение на основе сравнения предметов и явлений, выделяя при этом общие признаки	Б	1 балл
А2,3	Выявлять и объяснять географические аспекты различных текущих событий и ситуаций	Искать и находить обобщенные способы решения задач, в том числе, осуществлять развернутый информационный поиск и ставить на его основе новые	Б	по 1 баллу
А4,	Сравнивать географические объекты между собой по заданным критериям		Б	1 балл
А5	Оценивать демографическую ситуацию, процессы урбанизации, миграции в странах и регионах мира	Использовать различные модельно-схематические средства для представления существенных связей и отношений, а также противоречий, выявленных в информационных источниках	Б	1 балл
А6,7	Раскрывать причинно-следственные связи природно-хозяйственных явлений и процессов		Б	по 1 баллу
А8,9, 10	Выявлять закономерности и тенденции развития социально-экономических и экологических процессов и явлений на основе картографических и статистических источников информации	Находить и приводить критические аргументы в отношении действий и суждений другого.	Б	по 1 баллу
А11	<i>оценивать изменение отраслевой структуры отдельных стран и регионов мира</i>	Выходить за рамки учебного предмета и осуществлять целенаправленный поиск возможностей для широкого	В	1 балл

		переноса средств и способов действия		
В1	Анализировать факторы и объяснять закономерности размещения отраслей хозяйства отдельных стран и регионов мира	Использовать различные модельно-схематические средства для представления существенных связей и отношений, а также противоречий, выявленных в информационных источниках	Б	1 балл
В2	Использовать различные модельно-схематические средства для представления существенных связей и отношений, а также противоречий, выявленных в информационных источниках		Б	2 балла
С1	Оценивать демографическую ситуацию, процессы урбанизации, миграции в странах и регионах мира	Искать и находить обобщенные способы решения задач, в том числе, осуществлять развернутый информационный поиск и ставить на его основе новые (учебные и познавательные) задачи	Б	2 балла
С2	Анализировать факторы и объяснять закономерности размещения отраслей хозяйства отдельных стран и регионов мира		Б	2 балла

Отметочная шкала:

Задания А.1-11 - 1балл;

Задания В1,2 –по 2 балла за правильный ответ;

Задание С1 –1 балл за правильный ответ;

Задания С2,3 - 2 по балла за развёрнутый ответ

Итого: 20 баллов

Выставление отметки:

18-20 баллов-«5» (90-100%)

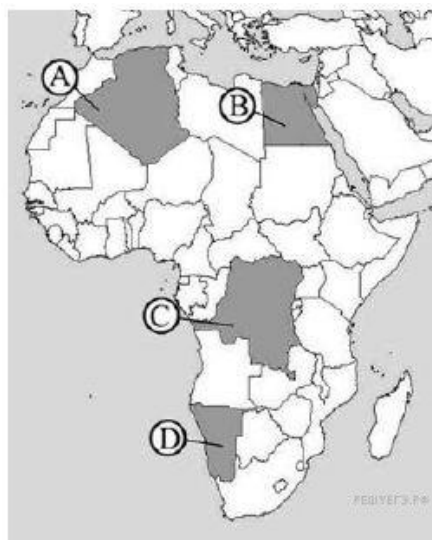
17-15 баллов- «4» (70-89%)

14-9 баллов-«3» (50-69%)

9 баллов и менее –«2» (менее 50 %)

Демоверсия

А1.Какой буквой на карте обозначен Египет?



А) А Б)В С)С Д)D

А2. Дополни:

Государство, обладающее политической независимостью, самостоятельностью во внутренних и внешних делах

А) Суверенное; Б) унитарное; В) федеративное.

А3. В эпоху НТР среди отраслей промышленности наиболее высокими темпами развиваются:

А) Электроэнергетика и текстильная промышленность

Б) Текстильная промышленность и машиностроение

В) Машиностроение и электроэнергетика

Г) Черная и цветная металлургия

А4. Новыми факторами размещения производства в эпоху НТР стали:

А) Транспортный фактор

Б) Фактор наукоемкости

В) Фактор наукоемкости и экологический

Г) природо-ресурсный

А5. В структуре производства электроэнергии какой страны наиболее велика доля АЭС?

А) Италия Б) Германия

В) Франция Г) Россия

А6. Для какой страны характерна структура ВВП, показанная в таблице?

Непроизводственная сфера	67%
Промышленность	31%
Сельское хозяйство	2%

А) Япония Б) Индия

В) Лаос Г) Ангола

А7. В какой из перечисленных стран международный туризм является одной из ведущих отраслей экономики?

А) Канада Б) Кипр

В) Австралия Г) Иран

А8. Главный морской порт Зарубежной Европы это:

А) Лондон; Б) Гамбург; В) Роттердам; Г) Вена.

А9. Что характерно для населения Японии:

А) преобладание (более 95%) японцев в национальном составе

Б) естественная убыль населения

В) занятость большей части населения в промышленности

Г) сосредоточение населения на западном побережье страны

А10. Крупнейшие страны по тоннажу торгового флота мира:

А) Польша и Япония; Б) Панама и Либерия;

В) Греция и Алжир; Г) Норвегия и Финляндия.

А11. Укажите название союза куда входят страны-экспортёры нефти:

А) ООН; Б) ОПЕК; В) АСЕАН; Г) ЮНЕСКО

В1. Установите соответствие:

Международные организации	Страны
1. Страны экспортеры нефти;	А. Республика Корея, Сингапур;
2. Новые индустриальные страны.	Б. Иран, Кувейт, Катар.

В1. Установите соответствие:

Характеристика страны	Страна
1. Страна восходящего солнца	А. Италия
2. Страна 80 тыс. озёр	Б. Япония
3. Страна столицей которого является Рим	В. Финляндия
4. Теократическая страна	Г. Ватикан

C1 Определите страну по её краткой характеристики:

«Эта древняя страна расположена на архипелаге, входит в первую десятку стран по численности населения. Бедна природными ресурсами, на добывающие отрасли приходится лишь 0,3% ВВП. Страна высокоурбанизирована, в ней насчитывается 12 городов – «миллионеров». Основная отрасль промышленности – многоотраслевое, высокотехнологическое машиностроение, продукция которого преобладает в структуре экспорта страны».

C2 Объясните, почему на долю Атлантического океана приходится 2/3 всех мировых международных природных грузов?

C3 Объясните, почему во Франции такая большая доля электроэнергии вырабатывается на АЭС?

Ключи

№ вопрос	1	2	3	4	5	6	7	8	9	10	11
А		+				+			+		
Б	+						+			+	+
В			+	+	+			+			
Г											

В1 1-Б, 2-А

В2 1-Б, 2-В, 3-А, 4-Г

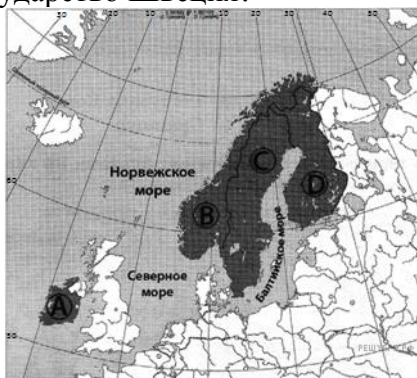
С1 Япония

C2 Примерный ответ: потому что именно Атлантический океан соединяет наиболее развитые в экономическом плане страны, такие как США, Англия, Германия, Бразилия.

C3 Потому что у них нет ни собственных топливных ресурсов (нефть - для ТЭЦ), ни достаточно больших рек для строительства ГЭС, поэтому на первом месте электроэнергии остается АЭС.

Вариант 1

1. Какой буквой на фрагменте политической карты зарубежной Европы обозначено государство Швеция?



А) А Б) В В) С Г) D

2. Какое из перечисленных государств по форме правления является абсолютной монархией: А) Ирландия Б) Исландия В) Дания Г) Ватикан

3. Странами-лидерами международного туризма являются:

А) Испания, Франция, Италия В) Греция, Португалия, Франция
Б) Германия, Испания, Польша Г) Италия, Чехия, Болгария

4. Что характерно для населения Японии:

А) преобладание (более 95%) японцев в национальном составе
Б) естественная убыль населения
В) занятость большей части населения в сельском хозяйстве
Г) сосредоточение населения на восточном побережье страны

5. Азия – родина:

А) Ислама Б) Буддизма В) Индуизма Г) Всех мировых религий

6. В большинстве своем страны Латинской Америки долгое время были колониями:

А) Франции Б) Великобритании В) Испании и Португалии Г) Германии

7. Наиболее остры экологические проблемы в странах:

А) Центральной Америки Б) Тропической Африки
В) Зарубежной Европы Г) Австралии и Океании

8. Какие из утверждений о США верны? Запишите цифры, под которыми они указаны.

А) Столица — город Нью-Йорк.

Б) Сеть автомобильных дорог страны является самой протяжённой дорожной сетью в мире.

В) Большая часть электроэнергии в стране производится на АЭС.

Г) Здесь расположено озеро Виннипег.

9. Определите страну по характерным для нее словам: автомобилестроение, морской транспорт, мегаполис, «экономическое чудо», император.

А) Германия Б) Китай В) Филиппины Г) Япония

10. Какие из следующих высказываний верны? Запишите цифры, под которыми они указаны.

А) Развитие тепловой электроэнергетики — одна из причин усиления парникового эффекта в атмосфере.

Б) Рекультивация земель — одна из причин сокращения продуктивных сельскохозяйственных угодий.

В) Перевод ТЭС с природного газа на уголь способствует сокращению выбросов углекислого газа в атмосферу.

Г) Использование тяжёлой техники — одна из причин повышения почвенного плодородия в степной зоне.

10. Какая из перечисленных стран входит в состав ОПЕК?

А) Норвегия Б) Саудовская Аравия; В) Канада; Г) Казахстан.

11. От уровня экономического развития страны зависят многие особенности её населения и хозяйства. Установите соответствие между страной и её характерной особенностью.

Страна	Особенность
А) Дания	1) высокая (более 70%) доля сферы услуг в ВВП
Б) Непал	2) высокая (более 30%) доля экономически активного населения, занятого в сельском хозяйстве
В) Япония	3) высокая (более 50%) доля сферы услуг в ВВП

12. Установите соответствие между с/х специализацией и территорией Северной Америки

11. Установите соответствие между страной и её столицей.

1. Саудовская Аравия

А) Дакка

2. Ливан

Б) Эр-Рияд

3. Бангладеш

В) Дамаск

12. Определите страну по её краткому описанию.

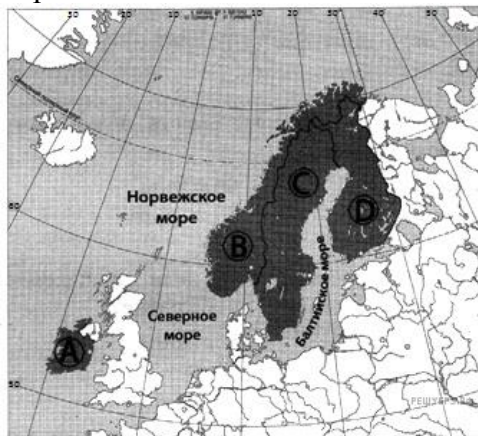
Территория этой страны находится на нескольких тысячах островов, расположенных в акватории двух океанов. Разведаны месторождения нефти, природного газа, угля, руд чёрных и цветных металлов. Большая часть территории страны расположена в природной зоне влажных экваториальных лесов. По численности населения входит в первую пятёрку стран мира. Большинство верующих исповедуют ислам. К основным сельскохозяйственным культурам относятся зерновые, каучуконос-гевея, чай, кофе, табак, какао, сизаль.

13. Город Чикаго является центром Приозёрного района чёрной металлургии США. Какие особенности ЭПП Чикаго способствовали размещению в нём предприятий чёрной металлургии? Укажите две особенности.

С3 Изменение человеком любого компонента природы неизбежно приводит к изменению всего природного комплекса. Создание крупных водохранилищ приводит к затоплению значительных территорий, повышению уровня грунтовых вод и заболачиванию, может заметно измениться и климат соседних территорий. Как повлияет создание крупного водохранилища в умеренных широтах на климат прилегающей территории? Укажите не менее двух следствий.

Вариант 2

1. Какой буквой на фрагменте политической карты зарубежной Европы обозначено государство Финляндия?



А) А Б) В В) С Г) D

2. Какое из перечисленных стран по форме правления является республикой: А) Швеция
Б) Норвегия В) ОАЭ Г) Франция

3. Австралия занимает первое место в мире по производству

А) Шерсти Б) Шелка В) Льна Г) Хлопка

4. Мировой лидер по количеству больших городов:

А) Индонезия Б) Индия В) Китай Г) Япония

5. Чайные плантации типичны для:

А) Монголии, Сингапура

Б) Индии, Китая

В) Индонезии, Малайзии

Г) Бразилии и Великобритании

6. Австралия в прошлом была колонией:

А) Великобритании; Б) Германии; В) Франции; Г) Голландии?

7. Нехватка продовольствия наиболее остра в странах

А) Африки

Б) Азии

В) Латинской Америки

Г) Европы

8. Регион – главная «горячая точка» мира:

А) Европа;

Б) Южная Америка;

В) Ближний Восток;

Г) Австралия.

9. Определите страну по характерным для нее словам: кино, республика, буддизм, сикхи, черная металлургия, чай.

А) Шри-Ланка

Б) Индонезия

В) Монголия

Г) Индия

10. Показатель высокого уровня экономического развития:

А) численность населения;

Б) ВВП на душу населения;

В) плотность населения;

Г) цены на газеты и журналы.

11. Для какой страны характерна структура ВВП, показанная в таблице?

Непроизводственная сфера	30%
Промышленность	19%
Сельское хозяйство	51%

А) Великобритания

Б) Канада

В) Лаос

Г) Австрия

В1. Установите соответствие между страной и её столицей

СТРАНА

СТОЛИЦА

- А) Аргентина
 Б) Португалия
 В) Ливия
 Г) Венесуэла

- 1) Триполи
 2) Буэнос-Айрес
 3) Лиссабон
 4) Каракас

В2. Уровень экономического развития страны во многом определяет особенности её населения и хозяйства. Установите соответствие между страной и её характерной особенностью.

Страна	Особенность
1. Афганистан	А) высокая (более 75%) доля сферы услуг в ВВП
2. Великобритания	Б) высокая (более 30%) доля экономически
3. Чад	активного населения, занятого в сельском хозяйстве

С1. Определите страну по ее описанию.

Эта высокоразвитая страна по форме правления является конституционной монархией. По числу жителей входит в первую десятку стран мира. Однонациональное по составу население характеризуется высокой средней плотностью, самой высокой продолжительностью жизни в мире. В промышленности приоритетное развитие получили новейшие наукоемкие отрасли.

С2. Какие особенности ЭГП и природно-ресурсного потенциала Норвегии способствовали развитию в этой стране металлургии алюминия, ориентированной на экспорт? Укажите одну особенность ЭГП и одну особенность природно-ресурсного потенциала

С3 В таких странах как Республика Корея, Япония доля электроэнергии, вырабатываемой на АЭС больше, чем во многих других регионах мира. Чем это можно объяснить?

Ключи:**1-В**

№ вопроса	1	2	3	4	5	6	7	8	9	10	11
А			+	+						+	
Б					+			+			+
В	+					+	+				
Г		+							+		

В1 1-В, 2-Б, 3-А

В2 1-Б, 2-А, 3-В

С1 Индонезия

С21. Город расположен вблизи месторождений железной руды.

2. Город расположен на побережье оз. Мичиган, что позволяет доставлять ресурсы дешевым водным путем или город расположен на берегу Великих американских озер.

С3 Испарение воды с поверхности водохранилищ способствуют повышению влажности воздуха, увеличивается количество атмосферных осадков. В умеренных широтах крупные водохранилища способствует повышению температуры воздуха в зимнее время. В летнее время могут возникать ветры, подобные бризам.

2-В

№ вопроса	1	2	3	4	5	6	7	8	9	10	11
А			+			+	+				
Б				+	+					+	
В								+			+
Г	+	+							+		

В1 1-В, 2-А, 3-Б, 4-Г

В2 А-2, Б-1, 3.

С1 Япония

С2. 1. Приморское положение позволяет выгодно импортировать бокситы в страну

2. Наличие собственных месторождений нефти и газа позволяет использовать их в качестве источника энергии на электростанции

С3. Гидроэнергетический потенциал рек невелик, собственные топливные ресурсы в этих странах практически отсутствуют.